

1. Which among the following (State - Coal region) is correctly matched?  
 (A) Madhya Pradesh - Ramgarh (B) West Bengal - Betul  
 (C) Odisha - Sambalpur (D) Jharkhand - Sarguja
2. Which among the following (River - Associated District) is not correctly matched?  
 (A) Kakni - Jaisalmer (B) Banganga - Jaipur  
 (C) Vatrak - Banswara (D) Dai - Ajmer
3. Which of the following will get irrigation benefits from the Parvan Mega project?  
 (A) 637 villages of Jhalawar, Baran and Kota districts  
 (B) 535 villages of Bundi, Kota and Baran districts  
 (C) 637 villages of Jhalawar, Bundi and Kota districts  
 (D) 535 villages of Pratapgarh, Jhalawar and Kota districts
4. When was President Rule imposed in Rajasthan due to unclear majority in the Assembly Elections?  
 (A) 1977 (B) 1967  
 (C) 1992 (D) 1980
5. As per Census - 2011, the district having least rural sex ratio in Rajasthan was -  
 (A) Tonk (B) Dholpur  
 (C) Jaisalmer (D) Barmer
6. Which leader of the Marwar Lok Parishad died in June 19, 1942 due to hunger strike against injustice in Jail?  
 (A) Bhanwar Lal Sharma (B) Anand Raj Surana  
 (C) Bal Mukund Bissa (D) Ranchod Das Gattani
7. Planning Commission has been replaced by which of the given Institution?  
 (A) National Development Council  
 (B) NITI Aayog  
 (C) Finance Commission of India  
 (D) Investment Commission of India

1. निम्नलिखित में से कौनसा (राज्य - कोयला क्षेत्र) सही सुमेलित है?  
 (A) मध्यप्रदेश - रामगढ़ (B) पश्चिम बंगाल - बैतूल  
 (C) ओडिशा - सम्बलपुर (D) झारखंड - सरगुजा
2. निम्नलिखित में से कौनसा (नदी - सम्बन्धित जिला) सुमेलित नहीं है?  
 (A) काकणी - जैसलमेर (B) बाणगंगा - जयपुर  
 (C) वात्रक - बांसवाड़ा (D) दाई - अजमेर
3. निम्नांकित में से किन्हें परवन बृहद् परियोजना से सिंचाई सुविधा मिलेगी?  
 (A) झालावाड़, बारां और कोटा जिलों के 637 गाँवों को  
 (B) बूंदी, कोटा और बारां जिलों के 535 गाँवों को  
 (C) झालावाड़, बूंदी और कोटा जिलों के 637 गाँवों को  
 (D) प्रतापगढ़, झालावाड़ और कोटा जिलों के 535 गाँवों को
4. विधान सभा चुनाव में अस्पष्ट बहुमत के कारण राजस्थान में राष्ट्रपति शासन कब लगाया गया था?  
 (A) 1977 (B) 1967  
 (C) 1992 (D) 1980
5. जनगणना-2011 के अनुसार, राजस्थान में जिस जिले में ग्रामीण लिंगानुपात सबसे कम था, वह है -  
 (A) टोंक (B) धौलपुर  
 (C) जैसलमेर (D) बाड़मेर
6. जेल में अन्याय के खिलाफ भूख हड़ताल के कारण मारवाड़ लोक परिषद के किस नेता की मृत्यु 19 जून, 1942 को हुई?  
 (A) भंवर लाल शर्मा (B) आनंद राज सुराणा  
 (C) बाल मुकुंद बिस्सा (D) रणछोड़दास गट्टानी
7. योजना आयोग को, दिए गए संस्थान में से, किसके द्वारा प्रतिस्थापित किया गया है?  
 (A) राष्ट्रीय विकास परिषद  
 (B) नीति आयोग  
 (C) भारत का वित्त आयोग  
 (D) भारत का निवेश आयोग



8. Who brought about a compromise between Muslim League and Congress, in 1916?  
 (A) Gopal Krishna Gokhale (B) Bal Gangadhar Tilak  
 (C) Surendranath Banerjee (D) Annie Besant
9. When was the Revenue Board established in Rajasthan?  
 (A) 1949 (B) 1955  
 (C) 1947 (D) 1951
10. From which tree 'Katha' is extracted in Rajasthan?  
 (A) Palas (B) Khair  
 (C) Khejri (D) Dhok
11. As per Census 2011, which state of India has the highest sex ratio?  
 (A) Chhattisgarh (B) Tamil Nadu  
 (C) Andhra Pradesh (D) Kerala
12. Who among the following was honoured with the Nari Shakti Puraskar on International Women's Day 2022?  
 (A) Batool Begam (B) Vasundhara Raje  
 (C) Mamta Chouhan (D) Usha Sharma
13. Labour Bureau, Shimla releases Industrial Labour Consumer Price Index (Base year-2016) for which centers in Rajasthan from September-2020?  
 (A) Jaipur, Jodhpur, Bikaner (B) Alwar, Bhilwara, Jaipur  
 (C) Alwar, Ajmer, Jaipur (D) Ajmer, Jaipur, Bhilwara
14. Ratanada airport provides services to -  
 (A) Jodhpur (B) Bikaner  
 (C) Kota (D) Udaipur
15. In which of the following tribes, the marriages named Tanna and Mor Bandhiya are prevalent?  
 (A) Meena (B) Sansi  
 (C) Bhil (D) Garasia
16. At which level of Panchayati Raj a "Sathin" is selected as an 'Honorary Woman Worker' for women development programmes?  
 (A) Panchayat - Samiti (B) Gram - Panchayat  
 (C) Block level (D) Zila - Parishad
8. 1916 में, मुस्लिम लीग और कांग्रेस के बीच समझौता किसने करवाया था?  
 (A) गोपाल कृष्ण गोखले (B) बाल गंगाधर तिलक  
 (C) सुरेन्द्रनाथ बनर्जी (D) एनी बेसेंट
9. राजस्थान में राजस्व मण्डल की स्थापना कब हुई?  
 (A) 1949 (B) 1955  
 (C) 1947 (D) 1951
10. राजस्थान में किस वृक्ष से 'कत्था' निकाला जाता है?  
 (A) पलास (B) खैर  
 (C) खेजड़ी (D) धोक
11. जनगणना 2011 के अनुसार, भारत के किस राज्य का लिंगानुपात सर्वाधिक है?  
 (A) छत्तीसगढ़ (B) तमिलनाडु  
 (C) आंध्र प्रदेश (D) केरल
12. अंतर्राष्ट्रीय महिला दिवस - 2022 पर, नारी शक्ति पुरस्कार से निम्नलिखित में से, किसे सम्मानित किया गया है?  
 (A) बतूल बेगम (B) वसुंधरा राजे  
 (C) ममता चौहान (D) ऊषा शर्मा
13. श्रम ब्यूरो, शिमला, सितंबर-2020 से राजस्थान के किन केन्द्रों के लिए औद्योगिक श्रमिकों हेतु उपभोक्ता मूल्य सूचकांक (आधार वर्ष-2016) जारी करता है?  
 (A) जयपुर, जोधपुर, बीकानेर (B) अलवर, भीलवाड़ा, जयपुर  
 (C) अलवर, अजमेर, जयपुर (D) अजमेर, जयपुर, भीलवाड़ा
14. रातानाडा हवाईअड्डा अपनी सेवायें उपलब्ध कराता है -  
 (A) जोधपुर को (B) बीकानेर  
 (C) कोटा को (D) उदयपुर को
15. ताणना एवं मोर बंधिया विवाह, निम्न में से किस जनजाति में प्रचलित हैं?  
 (A) मीणा (B) सांसी  
 (C) भील (D) गरासिया
16. पंचायती राज के किस स्तर पर एक "साथिन" का चयन महिला विकास कार्यक्रमों के लिए 'मानदेय महिला कार्यकर्ता' के रूप में किया जाता है?  
 (A) पंचायत-समिति (B) ग्राम-पंचायत  
 (C) ब्लॉक स्तर (D) ज़िला-परिषद



17. Which of the following Indus Valley Civilization site is included in UNESCO World Heritage list in July 2022?  
 (A) Kalibanga (B) Dholavira  
 (C) Mohenjo-Daro (D) Balathal
18. Malaj Khand is associated with which mineral production?  
 (A) Iron Ore (B) Copper  
 (C) Diamond (D) Lignite
19. Which type of forests are found in western slopes of the Western Ghat?  
 (A) Monsoon (B) Tropical Evergreen  
 (C) Savanna (D) Alpine
20. What is not correct with respect to GSTIN?  
 (A) It is a 16 digit and letter code.  
 (B) Its First 2 digits are the state code.  
 (C) It is 15 digit and letter code.  
 (D) It contains the PAN Card number of the individual or business.
21. On which river is the Salal Project located?  
 (A) Vyas (B) Chenab  
 (C) Jhelum (D) Ravi
22. The major producing region of soybean in Rajasthan is -  
 (A) Semi-Arid (B) Eastern Plains  
 (C) Hadoti Plateau (D) Mahi Basin
23. An objective of the National Food Security Mission is to increase the production of certain crops, which are -  
 (A) rice, wheat and pulses  
 (B) rice, wheat, pulses, oil seeds and vegetables  
 (C) rice, wheat, pulses and oil seeds  
 (D) rice and wheat
24. Which among the following is related to Lord Curzon?  
 (A) Partition of Bengal in 1905  
 (B) Government of India Act, 1909  
 (C) Universities Act, 1920  
 (D) Indian Council Act, 1892
25. Where is Lok Kala Mandir located?  
 (A) Ajmer (B) Jodhpur  
 (C) Kota (D) Udaipur
17. सिंधु घाटी सभ्यता के किस स्थल को जुलाई 2022 में यूनेस्को ने विश्व विरासत सूची में शामिल किया है?  
 (A) कालीबंगा (B) धोलावीरा  
 (C) मोहनजोदड़ो (D) बालाथल
18. मलाज खण्ड किस खनिज उत्पादन से संबंधित है?  
 (A) लौह अयस्क (B) तांबा  
 (C) हीरा (D) लिग्नाइट
19. पश्चिमी घाट के पश्चिमी ढालों पर किस प्रकार के वन पाए जाते हैं?  
 (A) मॉनसूनी (B) उष्णकटिबंधीय सदाबहार  
 (C) सवाना (D) अल्पाइन
20. जी.एस.टी. पहचान नम्बर के संबंध में क्या सही नहीं है?  
 (A) यह एक 16 अंक एवं अक्षरों का कोड है।  
 (B) इसके प्रथम 2 अंक राज्य का कोड होते हैं।  
 (C) यह एक 15 अंक व अक्षरों का कोड है।  
 (D) इसमें व्यक्ति या व्यवसाय के पेन कार्ड नम्बर समाहित होते हैं।
21. सलाल परियोजना किस नदी पर स्थित है?  
 (A) व्यास (B) चिनाब  
 (C) झेलम (D) रावी
22. राजस्थान में सोयाबीन उत्पादक प्रमुख क्षेत्र है -  
 (A) अर्द्ध शुष्क (B) पूर्वी मैदान  
 (C) हाड़ौती पठार (D) माही बेसिन
23. राष्ट्रीय खाद्य सुरक्षा मिशन का एक उद्देश्य कुछ फसलों के उत्पादन में वृद्धि करना है, जो हैं -  
 (A) चावल, गेहूँ और दालें  
 (B) चावल, गेहूँ, दालें, तिलहन और सब्जियाँ  
 (C) चावल, गेहूँ, दालें और तिलहन  
 (D) चावल और गेहूँ
24. निम्नलिखित में से क्या लॉर्ड कर्जन से संबंधित है?  
 (A) 1905 का बंगाल का विभाजन  
 (B) भारत सरकार अधिनियम, 1909  
 (C) विश्वविद्यालय अधिनियम, 1920  
 (D) भारतीय परिषद अधिनियम, 1892
25. लोक कला मन्दिर कहाँ स्थित है?  
 (A) अजमेर (B) जोधपुर  
 (C) कोटा (D) उदयपुर



26. Who among the following was not elected in Rajya Sabha elections 2022 in Rajasthan?  
 (A) Sh. Mukul Balkrishna Wasnik (B) Sh. Ghanshyam Tiwari  
 (C) Sh. Pramod kumar (D) Sh. Subhash Chandra
27. In which year 'Chief Minister Raj Neer Scheme' was declared in Rajasthan?  
 (A) 2019 (B) 2015  
 (C) 2020 (D) 2021
28. Which are the highest population districts of Rajasthan, according to Census - 2011 (Descending order)?  
 (A) Alwar-Jaipur-Nagaur-Jodhpur  
 (B) Jaipur-Jodhpur-Nagaur-Alwar  
 (C) Jodhpur-Jaipur-Alwar-Nagaur  
 (D) Jaipur-Jodhpur-Alwar-Nagaur
29. Which of the following cities will host the 2025 World Athletics Championships?  
 (A) Tokyo (B) Budapest  
 (C) Shanghai (D) Paris
30. High Court of Rajasthan was inaugurated by Rajpramukh Sawai Mansingh on -  
 (A) January 28<sup>th</sup>, 1952 (B) August 29<sup>th</sup>, 1949  
 (C) March 27<sup>th</sup>, 1951 (D) January 28<sup>th</sup>, 1950
31. In Rajasthan, where is the first Tribal Child Hockey Academy established?  
 (A) Udaipur (B) Bhilwara  
 (C) Kota (D) Dungarpur
32. Who among the following leader was in the Independence Movement in Bharatpur state?  
 (A) Tikaram Paliwal (B) Kishan Lal Joshi  
 (C) Mangal Singh (D) Shobha Ram Sharma
33. Which song of goddess was sung by the 'Kanfate Jogi' with Damru and Sarangi?  
 (A) Nagnechi Mata (B) Sheetala Mata  
 (C) Sakrai Mata (D) Jeen Mata
26. निम्नलिखित में से कौन, राजस्थान से राज्यसभा चुनाव 2022 में निर्वाचित नहीं हुआ था?  
 (A) श्री मुकुल बालकृष्ण वासनिक (B) श्री घनश्याम तिवारी  
 (C) श्री प्रमोद कुमार (D) श्री सुभाष चन्द्रा
27. राजस्थान में 'मुख्यमंत्री राज नीर योजना' किस वर्ष में घोषित की गई?  
 (A) 2019 (B) 2015  
 (C) 2020 (D) 2021
28. 2011 की जनगणना के अनुसार, राजस्थान के सर्वाधिक जनसंख्या वाले जिले हैं - (अवरोही क्रम)  
 (A) अलवर-जयपुर-नागौर-जोधपुर  
 (B) जयपुर-जोधपुर-नागौर-अलवर  
 (C) जोधपुर-जयपुर-अलवर-नागौर  
 (D) जयपुर-जोधपुर-अलवर-नागौर
29. 2025 विश्व एथलेटिक्स चैंपियनशिप्स की मेजबानी निम्न में से कौन सा शहर करेगा?  
 (A) टोक्यो (B) बुडापेस्ट  
 (C) शंघाई (D) पेरिस
30. राजस्थान उच्च न्यायालय का उद्घाटन राजप्रमुख सवाई मानसिंह द्वारा..... में किया गया था।  
 (A) 28 जनवरी, 1952 (B) 29 अगस्त, 1949  
 (C) 27 मार्च, 1951 (D) 28 जनवरी, 1950
31. राजस्थान की पहली जनजाति बालक हॉकी अकादमी कहाँ स्थापित की गई है?  
 (A) उदयपुर में (B) भीलवाड़ा में  
 (C) कोटा में (D) डूंगरपुर में
32. भरतपुर राज्य के स्वतंत्रता आंदोलन में निम्न में से कौन एक नेता थे?  
 (A) टीकाराम पालीवाल (B) किशन लाल जोशी  
 (C) मंगलसिंह शर्मा (D) शोभा राम
33. 'कनफटे जोगी' डमरू एवं सारंगी वाद्य यंत्रों के साथ किस देवी के गीत गाते हैं?  
 (A) नागणेची माता (B) शीतला माता  
 (C) सकराय माता (D) जीण माता



34. Which one of the following (Folk drama - Place) is not matched correctly?  
 (A) Nautanki - Bharatpur, Dholpur  
 (B) Rammatt - Bikaner, Jaisalmer  
 (C) Turra Kalangi - Marwar  
 (D) Tamasha - Jaipur
35. Ognia, Angotia, Surliya ornaments are worn -  
 (A) on wrist (B) on feet  
 (C) on head (D) in ears
36. The first UDAY (Utkrisht Double Decker Air-Conditioned Yatri) Express train runs between -  
 (A) Visakhapatnam and Vijayawada  
 (B) Bengaluru and Coimbatore  
 (C) Chennai and Visakhapatnam  
 (D) Delhi and Kalka
37. Who has built the Shiv Temple of Badoli (Kota)?  
 (A) Mihirkula (B) Bhoj Pratihar  
 (C) Bhoj Parmar (D) Toramana
38. "Illa na deni, aapni, halriya hulraaye. Poot sikhave palne, maran badai maaye." The above lines are taken from which book?  
 (A) Prithviraj Raso (B) Vansh Bhaskar  
 (C) Kanhad-de-Prabandh (D) Veer Satsai
39. There are a total of 75 Ramsar sites in India by August 2022, which state has the maximum number of Ramsar sites?  
 (A) Tamil Nadu (B) Himachal Pradesh  
 (C) Uttar Pradesh (D) Madhya Pradesh
40. The Ministry of Youth Affairs and Sports announced the Major Dhyam Chand Khel Ratna Award for the year 2022 to 'Achanta Sharath Kamal', he is related to which sports?  
 (A) Table tennis (B) Lawn tennis  
 (C) Chess (D) Badminton
34. निम्नलिखित में से कौन सा (लोक नाट्य - स्थान) सुमेलित नहीं है?  
 (A) नौटंकी - भरतपुर, धौलपुर  
 (B) रम्मत - बीकानेर, जैसलमेर  
 (C) तुरा कलंगी - मारवाड़  
 (D) तमाशा - जयपुर
35. ओगनिया, अंगोटिया, सुरलिया, आभूषण पहने जाते हैं -  
 (A) कलाई पर (B) पैरों में  
 (C) सिर पर (D) कानों में
36. प्रथम उदय (उत्कृष्ट डबल डेकर वातानुकूलित यात्री) एक्सप्रेस ट्रेन किसके बीच चलती है?  
 (A) विशाखापट्टनम और विजयवाड़ा  
 (B) बंगलुरु और कोयंबटूर  
 (C) चेन्नई और विशाखापट्टनम  
 (D) दिल्ली और कालका
37. बडोली (कोटा) के शिव मन्दिर का निर्माण किसने करवाया?  
 (A) मिहिरकुल (B) भोज प्रतिहार  
 (C) भोज परमार (D) तोरमाण
38. "इला न देणी, आपणी, हालरिया हुलराय। पूत सिखावै पालणै, मरण बड़ाई माय ॥" उपर्युक्त पंक्तियाँ किस ग्रन्थ से ली गई हैं?  
 (A) पृथ्वीराज रासो (B) वंश भास्कर  
 (C) कान्हडदे प्रबन्ध (D) वीर सतसई
39. अगस्त 2022 तक भारत में कुल 75 रामसर स्थल हैं, इनमें से सर्वाधिक रामसर स्थल किस राज्य से हैं?  
 (A) तमिलनाडु (B) हिमाचल प्रदेश  
 (C) उत्तर प्रदेश (D) मध्य प्रदेश
40. युवा मामले और खेल मंत्रालय ने वर्ष 2022 का मेजर ध्यानचंद खेल रत्न पुरस्कार 'अचंता शरथ कमल' को देने की घोषणा की गई, इनका संबंध किस खेल से है?  
 (A) टेबल टेनिस (B) लॉन टेनिस  
 (C) शतरंज (D) बैडमिंटन







48. HPCL Rajasthan Refinery Ltd. is a joint venture between Hindustan Petroleum Corporation Limited (HPCL) and government of Rajasthan with an equity participations of -

- (A) 74% and 26% respectively (B) 68% and 32% respectively  
(C) 72% and 28% respectively (D) 56% and 44% respectively

49. Which of the following pair (Political Activist - Related Princely state) is not correctly matched?

- (A) Mithalal Vyas - Jaisalmer  
(B) Bhupendranath Trivedi - Kota  
(C) Kishanlal Joshi - Bharatpur  
(D) Pandit Harinarayan Sharma - Alwar

50. Match the following -

<u>Folk Deity</u>	<u>Birth place</u>
(1) Gogaji	(i) Santhu
(2) Pabuji	(ii) Dadreva
(3) Hadbuji	(iii) Kohu
(4) Fattaji	(iv) Bhundol



- Code -  
(A) 1-ii, 2-iii, 3-iv, 4-i (B) 1-i, 2-ii, 3-iii, 4-iv  
(C) 1-iv, 2-ii, 3-iii, 4-i (D) 1-iii, 2-i, 3-ii, 4-iv

51. The author of 'Beli Krishan Rukmani Ri', was the court poet of which ruler?

- (A) Akbar (B) Maharana Kumbha  
(C) Shah Jahan (D) Vignaraja IV

52. Two statements are given below, one labelled as Assertion (A) and the other as Reason (R) -  
**Assertion (A) :** Dadabhai Naoroji founded East India Association in London.

**Reason (R) :** He wanted to influence the British Public Opinion.

In the context of the above two statements, which one of the following is correct?

- (A) Both (A) and (R) are true but (R) is not the correct explanation of (A)  
(B) Both (A) and (R) are true and (R) is correct explanation of (A)  
(C) (R) is true but (A) is false  
(D) (A) is true but (R) is false

48. एच.पी.सी.एल. राजस्थान रिफाइनरी लिमिटेड, हिन्दुस्तान पेट्रोलियम कॉर्पोरेशन लिमिटेड (एच.पी.सी.एल.) एवं राजस्थान सरकार के मध्य कितनी इक्विटी भागीदारी का संयुक्त उद्यम है?

- (A) क्रमशः 74% एवं 26% (B) क्रमशः 68% एवं 32%  
(C) क्रमशः 72% एवं 28% (D) क्रमशः 56% एवं 44%

49. निम्नलिखित में से कौन सा युग्म (राजनीतिक कार्यकर्ता - संबंधित रियासती राज्य) सुमेलित नहीं है?

- (A) मीठालाल व्यास - जैसलमेर  
(B) भूपेन्द्रनाथ त्रिवेदी - कोटा  
(C) किशनलाल जोशी - भरतपुर  
(D) पंडित हरिनारायण शर्मा - अलवर

50. सुमेलित कीजिए -

<u>लोक देवता</u>	<u>जन्म स्थान</u>
(1) गोगाजी	(i) सांथू
(2) पाबूजी	(ii) ददरेवा
(3) हड़बूजी	(iii) कोहू
(4) फत्ताजी	(iv) भूंडोल

- कूट -  
(A) 1-ii, 2-iii, 3-iv, 4-i (B) 1-i, 2-ii, 3-iii, 4-iv  
(C) 1-iv, 2-ii, 3-iii, 4-i (D) 1-iii, 2-i, 3-ii, 4-iv

51. 'बेली क्रिशन रुकमणी री' के रचयिता, किस शासक के दरबारी कवि थे?

- (A) अकबर (B) महाराणा कुम्भा  
(C) शाहजहाँ (D) विग्रहराज चतुर्थ

52. नीचे दो कथन दिए गए हैं, एक को अभिकथन (A) और दूसरे को कारण (R) कहा गया है -

अभिकथन (A) : दादाभाई नौरोजी ने लंदन में ईस्ट इंडिया एसोसिएशन की स्थापना की।

कारण (R) : वह ब्रिटिश जनमत को प्रभावित करना चाहते थे।

उपरोक्त दो कथनों के संदर्भ में, निम्नलिखित में से कौनसा एक सही है?

- (A) दोनों (A) और (R) सत्य हैं लेकिन (R), (A) की सही व्याख्या नहीं करता है  
(B) दोनों (A) और (R) सत्य हैं और (R), (A) की सही व्याख्या करता है  
(C) (R) सत्य है लेकिन (A) असत्य है  
(D) (A) सत्य है लेकिन (R) असत्य है



53. As per Koppen's climate classification, which type of climate is found in Dungarpur and Banswara district?  
 (A) Aw (B) Cwg  
 (C) BWhw (D) BShw
54. Which (Mineral – Mining Area) is not correctly matched?  
 (A) Dolomite - Bajla-Kabra  
 (B) Lead & Zinc - Rampura-Agucha  
 (C) Fluorite - Mando-Ki-Pal  
 (D) Rock phosphate - Barodia
55. Vedanthangal Bird Sanctuary is situated at -  
 (A) Kerala (B) Tamil Nadu  
 (C) Karnataka (D) Andhra Pradesh
56. Which (Cattle fair and District) is not correctly matched?  
 (A) Gogamedi Cattle Fair – Hanumangarh  
 (B) Shivratri Cattle Fair – Sawai Madhopur  
 (C) Chandrabhaga Cattle Fair – Jhalawar  
 (D) Ramdev Cattle Fair – Nagaur
57. In January 2022, Central Government's 'PM WANI Yojana' started in which district of Rajasthan?  
 (A) Pratapgarh (B) Jodhpur  
 (C) Sikar (D) Jaipur
58. Where in Rajasthan oil refinery is being established?  
 (A) Barmer (B) Bikaner  
 (C) Jaisalmer (D) Jalore
59. Which of the following statement is not true?  
 (A) Ramsay MacDonald called the Collector as the Institutional Charisma.  
 (B) In district, the District Collector functions as Chief Protocol Officer.  
 (C) The post of District Collector was created by Warren Hastings in 1772.  
 (D) In Article 233 of the Indian Constitution, the word 'District Judge' has been mentioned.
60. As on August 2022, how many declared wetlands are there in India?  
 (A) 41 (B) 48  
 (C) 72 (D) 75
53. कोपेन के जलवायु वर्गीकरण के अनुसार, डूंगरपुर और बांसवाड़ा जिलों में किस प्रकार की जलवायु पाई जाती है?  
 (A) Aw (B) Cwg  
 (C) BWhw (D) BShw
54. कौन सा (खनिज-खनन क्षेत्र) सुमेलित नहीं है?  
 (A) डोलोमाइट – बाजला-काबरा  
 (B) सीसा और जस्ता – रामपुरा-अगुचा  
 (C) फ्लोराइट – मांडो-की-पाल  
 (D) रॉक फॉस्फेट – बरोडिया
55. वेदान्थांगल पक्षी अभ्यारण्य स्थित है -  
 (A) केरल में (B) तमिलनाडु में  
 (C) कर्नाटक में (D) आंध्र प्रदेश में
56. कौन-सा (पशु मेला और जिला) सही सुमेलित नहीं है?  
 (A) गोगामेडी पशुमेला – हनुमानगढ़  
 (B) शिवरात्रि पशुमेला – सवाई माधोपुर  
 (C) चन्द्रभागा पशुमेला – झालावाड़  
 (D) रामदेव पशुमेला – नागौर
57. जनवरी 2022 को, केन्द्र सरकार की 'पी.एम. वाणी योजना' का शुभारंभ राजस्थान के किस जिले में किया गया?  
 (A) प्रतापगढ़ (B) जोधपुर  
 (C) सीकर (D) जयपुर
58. राजस्थान में ऑयल रिफायनरी की स्थापना कहाँ की जा रही है?  
 (A) बाड़मेर (B) बीकानेर  
 (C) जैसलमेर (D) जालौर
59. निम्नलिखित में से कौनसा एक कथन सत्य नहीं है?  
 (A) रामसे मैकडोनाल्ड ने कलेक्टर को संस्थागत करिश्मा कहा था।  
 (B) जिले में, जिला कलेक्टर मुख्य प्रोटोकॉल अधिकारी का कार्य करता है।  
 (C) सन् 1772 में, वॉरेन हेस्टिंग्स द्वारा जिला कलेक्टर का पद सृजित किया गया।  
 (D) भारत के संविधान के अनुच्छेद 233 में 'जिला न्यायाधीश' शब्द का उल्लेख किया गया है।
60. अगस्त 2022 की स्थिति के अनुसार, भारत में कितनी घोषित आर्द्र भूमियाँ हैं?  
 (A) 41 (B) 48  
 (C) 72 (D) 75



61. Which of the following pair is not correctly matched?  
 (A) 243 R – Mention of the composition of Municipal Corporations  
 (B) 243 ZC – Composition of District Planning Committee  
 (C) 243 S – Constitution and composition of Wards Committees  
 (D) 243 ZE – Composition of Metropolitan Planning Committee
62. With reference to Indian Economy, consider the following –  
 (i) Public debt  
 (ii) Public revenue  
 (iii) Open market operations  
 (iv) Bank rate  
 Which of the above is/are component/s of Monetary Policy?  
 (A) (iii) and (iv) (B) (i), (ii) and (iii)  
 (C) (i) Only (D) (ii) Only
63. What is the name of the cremation site of Mewar royal family?  
 (A) Mahasatya (B) Kaga  
 (C) Gatore (D) Bada Bagh
64. When did Maharana Pratap make Chavand his capital?  
 (A) 1576 (B) 1582  
 (C) 1585 (D) 1580
65. Which of the following statement is incorrect?  
 (A) PESA Act is applied to 9 states of Schedule 5.  
 (B) The PESA Act was enacted on the recommendation of Dileep Singh Bhuria Committee.  
 (C) Panchayat (Extension to Schedule Area) (PESA) Act was implemented on 24<sup>th</sup> December 1996.  
 (D) One of the objectives of the Act is to protect and conserve the traditions and customs of tribal communities.
66. Giral lignite thermal power project is located in which village?  
 (A) Ramsar (Ajmer) (B) Sivana (Jalore)  
 (C) Samdari (Barmer) (D) Thumbli Village (Barmer)
61. निम्नलिखित में से कौनसा युग्म सुमेलित नहीं है?  
 (A) 243 R – नगर पालिकाओं की संरचना का उल्लेख  
 (B) 243 ZC – जिला योजना समिति का गठन  
 (C) 243 S – वार्ड समितियों का गठन व संरचना  
 (D) 243 ZE – महानगर योजना समिति का गठन
62. भारतीय अर्थव्यवस्था के संदर्भ में, निम्न पर विचार कीजिए –  
 (i) सार्वजनिक ऋण  
 (ii) सार्वजनिक राजस्व  
 (iii) खुले बाजार की क्रियाएं  
 (iv) बैंक दर  
 उपरोक्त में से कौन सा/से मौद्रिक नीति के घटक है/हैं?  
 (A) (iii) और (iv) (B) (i), (ii) और (iii)  
 (C) केवल (i) (D) केवल (ii)
63. मेवाड़ राज घराने के अन्त्येष्टि स्थल का नाम क्या है?  
 (A) महासत्य (B) कागा  
 (C) गेटोर (D) बड़ा बाग
64. महाराणा प्रताप ने चावण्ड को अपनी राजधानी कब बनाया था?  
 (A) 1576 (B) 1582  
 (C) 1585 (D) 1580
65. निम्नांकित में से कौनसा कथन असत्य है?  
 (A) पेसा (PESA) अधिनियम, अनुसूची – 5 के 9 राज्यों में लागू है।  
 (B) पेसा (PESA) अधिनियम, दिलीप सिंह भूरिया समिति की अनुशंसा पर बनाया गया।  
 (C) पंचायत अनुसूचित क्षेत्रों में विस्तार (पेसा, PESA) अधिनियम 24 दिसम्बर, 1996 को लागू हुआ।  
 (D) इस अधिनियम का एक उद्देश्य जनजातीय समुदायों की परम्पराओं एवं रीति-रिवाजों की सुरक्षा एवं संरक्षण करना है।
66. गिरल लिग्नाइट ताप शक्ति परियोजना किस गांव में स्थित है?  
 (A) रामसर (अजमेर) (B) सिवाणा (जालौर)  
 (C) समदड़ी (बाड़मेर) (D) थुम्बली गांव (बाड़मेर)



67. Which of the following statement is not true about 'Kalibangan Civilization'?
- (A) Camel bones have been discovered at Kalibangan.  
 (B) Luigi Pio Tessitori, an Italian Indologist found the Kalibangan site.  
 (C) Kalibangan has provided evidence of the first recorded earthquake.  
 (D) Pre Harappan fire altars have been discovered.
68. Which is the rank of India in the recently released Global Hunger Index 2022?
- (A) 107<sup>th</sup> (B) 110<sup>th</sup>  
 (C) 102<sup>nd</sup> (D) 109<sup>th</sup>
69. Under whose leadership, thousands of women participated in the conference held at Katrathal on 25<sup>th</sup> April, 1934?
- (A) Rama Devi (B) Durga Devi  
 (C) Uttama Devi (D) Kishori Devi
70. Gopal Saini is related to which handicraft of Rajasthan?
- (A) Terracotta (B) Wood Art  
 (C) Theva Art (D) Blue Pottery
71. In which of these countries is the G-20 summit proposed for the year 2023?
- (A) China (B) Vietnam  
 (C) India (D) Indonesia
72. Consider the following statements regarding the Goods and Services Tax Network (GSTN) –
- (i) It is a non-government, private limited company.  
 (ii) It is a not for profit company.  
 Select the correct answer using the code given below -
- (A) Neither (i) nor (ii) (B) (i) only  
 (C) Both (i) and (ii) (D) (ii) only
73. Who was the Ruler of Bikaner who supported the British through his army for suppressing Revolt of 1857?
- (A) Sardar Singh (B) Ratan Singh  
 (C) Ganga Singh (D) Dungar Singh
67. निम्नलिखित में से कौन सा कथन 'कालीबंगा सभ्यता' के विषय में सही नहीं है?
- (A) कालीबंगा से ऊँट की हड्डियों के साक्ष्य मिले हैं।  
 (B) कालीबंगा की खोज एक इतालवी इंडोलॉजिस्ट लुइगी पियो टेसिटोरी ने की थी।  
 (C) कालीबंगा से प्रथम अंकित किए गए भूकंप के साक्ष्य मिले हैं।  
 (D) प्राक् हड़प्पा अग्निवेदियों के साक्ष्य मिले हैं।
68. हाल ही में, जारी वैश्विक भूख सूचकांक 2022 में भारत का कौनसा स्थान रहा?
- (A) 107वाँ (B) 110वाँ  
 (C) 102वाँ (D) 109वाँ
69. किसके नेतृत्व में, 25 अप्रैल, 1934, को कटराथल में आयोजित विशाल महिला सम्मेलन में हजारों महिलाओं ने भाग लिया?
- (A) रमा देवी (B) दुर्गा देवी  
 (C) उत्तमा देवी (D) किशोरी देवी
70. गोपाल सैनी का सम्बन्ध राजस्थान की किस हस्तकला से है?
- (A) टैराकोटा (B) काष्ठ कला  
 (C) थेवा कला (D) ब्ल्यू पॉटरी
71. वर्ष 2023 का जी-20 शिखर सम्मेलन निम्न में से किस देश में प्रस्तावित है?
- (A) चीन (B) वियतनाम  
 (C) भारत (D) इण्डोनेशिया
72. माल और सेवा कर नेटवर्क (जी.एस.टी.एन.) के संबंध में निम्नलिखित कथनों पर विचार करें –
- (i) यह एक गैर सरकारी, प्राइवेट लिमिटेड कंपनी है।  
 (ii) यह एक गैर लाभ कंपनी है।  
 नीचे दिए गये कूट का प्रयोग कर सही उत्तर चुनिए –
- (A) न तो (i) ना ही (ii) (B) केवल (i)  
 (C) दोनों (i) और (ii) (D) केवल (ii)
73. 1857 की क्रांति को दबाने के लिए, बीकानेर के किस शासक ने अंग्रेजों को सैन्य सहायता दी?
- (A) सरदार सिंह (B) रतन सिंह  
 (C) गंगा सिंह (D) डूंगर सिंह



74. Which state of India has highest potentiality of wind energy?  
 (A) Gujarat (B) Karnataka  
 (C) Rajasthan (D) Tamil Nadu
75. Who among the following was the author of the book 'Jaisalmer Ka Gundaraj'?  
 (A) Manmohan Lal Verma (B) Sagarmal Gopa  
 (C) Hiralal Shastri (D) Jai Narayan Vyas
76. Who is famous with the name of Narsingh in Rajasthan?  
 (A) Kavi Durlabhji (B) Sant Ramcharanji  
 (C) Sant Rajjab ji (D) Sant Charandas ji
77. According to Col. Tod, Meena's originally belong to which of these places?  
 (A) Kali Ghati (B) Mukundara Hills  
 Mountain ranges  
 (C) Abu Mountain ranges (D) Kali Khoh Mountain ranges
78. In which part of Rajasthan the 'Entisols' soil is found?  
 (A) Southern (B) South Eastern  
 (C) Western (D) Eastern
79. Who among the following is not in the Selection Committee of the Chairman and members of the Rajasthan State Human Rights Commission?  
 (A) Home Minister (B) Leader of the Opposition  
 (C) Governor (D) Chief Minister
80. The construction of Bisalpur Dam was completed in which year?  
 (A) 1999 (B) 1996  
 (C) 1992 (D) 1989
81. Which of the following region of Rajputana was ruled by the Varik dynasty?  
 (A) Alwar (B) Bayana  
 (C) Badnaur (D) Ajmer
82. Which country got the maximum export from India in the year 2021-22?  
 (A) USA (B) UAE  
 (C) China (D) Brazil
74. भारत के किस राज्य में पवन ऊर्जा की सर्वाधिक क्षमता विद्यमान है?  
 (A) गुजरात (B) कर्नाटक  
 (C) राजस्थान (D) तमिलनाडु
75. 'जैसलमेर का गुंडाराज' पुस्तक के लेखक निम्न में से कौन थे?  
 (A) माणिक्यलाल वर्मा (B) सागरमल गोपा  
 (C) हीरालाल शास्त्री (D) जयनारायण व्यास
76. राजस्थान में नरसिंह के नाम से प्रसिद्ध हैं -  
 (A) कवि दुर्लभजी (B) संत रामचरणजी  
 (C) संत रज्जब जी (D) संत चरणदासजी
77. कर्नल टॉड के अनुसार, मीणाओं का मूल निवास स्थान निम्न में से कौन सा था?  
 (A) काली घाटी पर्वतमाला (B) मुकुन्दरा पर्वत श्रेणी  
 (C) आबू पर्वतमाला (D) काली खोह पर्वतमाला
78. राजस्थान के किस भाग में 'एण्टीसोल्स' मृदा पायी जाती है?  
 (A) दक्षिणी (B) दक्षिण पूर्वी  
 (C) पश्चिमी (D) पूर्वी
79. राजस्थान राज्य मानवाधिकार आयोग के अध्यक्ष एवं सदस्यों की चयन समिति में निम्नलिखित में कौन शामिल नहीं होता है?  
 (A) गृह मंत्री (B) विपक्ष का नेता  
 (C) राज्यपाल (D) मुख्यमंत्री
80. बीसलपुर बाँध का निर्माण किस वर्ष में पूर्ण हुआ?  
 (A) 1999 (B) 1996  
 (C) 1992 (D) 1989
81. निम्नलिखित में से राजपूताना के किस क्षेत्र पर वरीक वंश ने शासन किया था?  
 (A) अलवर (B) बयाना  
 (C) बदनौर (D) अजमेर
82. निम्नांकित में से किस देश ने वर्ष 2021-22 में भारत से सर्वाधिक निर्यात किए?  
 (A) यू.एस.ए. (B) यू.ए.ई.  
 (C) चीन (D) ब्राज़ील



83. 'Utsav Bhoj Yojana' in Rajasthan is related to -  
 (A) Indira Rasoi Yojna (B) Mid-day Meal Yojana  
 (C) Food in-Night Shelter (D) Community Marriage Scheme
84. Who wrote the book named 'Hammer and Sledge'?  
 (A) Chandrashekhar (B) Keshavdev  
 (C) Dalpat (D) Jodhraj
85. Akal Wood Fossil Park is located in which of the following district?  
 (A) Jaisalmer (B) Rajsamand  
 (C) Bundi (D) Pali
86. National Bank for Agriculture and Rural Development (NABARD) was established on -  
 (A) 12<sup>th</sup> July, 1986 (B) 12<sup>th</sup> July, 1982  
 (C) 12<sup>th</sup> July, 1978 (D) 12<sup>th</sup> July, 1992
87. Identify the Chairman of the Rajasthan State Human Rights Commission, who also served as the Judge of the Supreme Court of India?  
 (A) Nagendra Kumar Jain (B) Kanta Kumari Bhatnagar  
 (C) Gopal Krishna Vyas (D) Saiyed Saghir Ahmad
88. From the following battles, choose the correct order from first to last according to the year they were fought -  
 (1) Battle of Gagrion  
 (2) Battle of Sarangpur  
 (3) Battle of Bayana  
 (4) Battle of Mavli  
 Choose the correct option -  
 (A) 2, 1, 3, 4 (B) 2, 4, 3, 1  
 (C) 1, 3, 2, 4 (D) 1, 2, 3, 4
89. To which age does the artistic splendour of Abhaneri and Rajoregarh belong?  
 (A) Guhil - Sisodia (B) Chauhan  
 (C) Gurjar - Pratihara (D) Rathore
90. Which one of the following is Not included in the Agriculture and Allied Services of Indian Economy?  
 (A) Food Processing (B) Logging (Trees)  
 (C) Forestry (D) Fishery
91. Saint Haridas was the founder of ..... sect.  
 (A) Ramsnehi (B) Niranjani  
 (C) Alakhiya (D) Nimbarka
83. राजस्थान में 'उत्सव भोज योजना' संबंधित है -  
 (A) इंदिरा रसोई योजना (B) मिड-डे मील योजना  
 (C) रैन बसेरा में भोजन (D) सामुदायिक विवाह योजना
84. 'हम्मिर हठ' नामक ग्रन्थ किसने लिखा?  
 (A) चन्द्रशेखर (B) केशवदेव  
 (C) दलपत (D) जोधराज
85. आकल काष्ठ जीवाश्म उद्यान निम्न में से किस जिले में स्थित है?  
 (A) जैसलमेर (B) राजसमंद  
 (C) बून्दी (D) पाली
86. राष्ट्रीय कृषि और ग्रामीण विकास बैंक (नाबार्ड) की स्थापना हुई थी-  
 (A) 12 जुलाई, 1986 को (B) 12 जुलाई, 1982 को  
 (C) 12 जुलाई, 1978 को (D) 12 जुलाई, 1992 को
87. राजस्थान राज्य मानवाधिकार आयोग के ऐसे अध्यक्ष को चिह्नित कीजिए, जो उच्चतम न्यायालय के न्यायाधीश भी रहे?  
 (A) नागेन्द्र कुमार जैन (B) कांता कुमारी भटनागर  
 (C) गोपाल कृष्ण व्यास (D) सैय्यद सगीर अहमद
88. निम्नलिखित युद्धों में से, उनके लड़े जाने के वर्ष के अनुसार पहले से आखिरी तक सही क्रम को चुनिए -  
 (1) गागरोन का युद्ध  
 (2) सारंगपुर का युद्ध  
 (3) बयाना का युद्ध  
 (4) मावली का युद्ध  
 सही विकल्प चुनें -  
 (A) 2, 1, 3, 4 (B) 2, 4, 3, 1  
 (C) 1, 3, 2, 4 (D) 1, 2, 3, 4
89. आभानेरी तथा राजौरगढ़ के कलात्मक वैभव किस काल से सम्बन्धित हैं?  
 (A) गुहिल - सिसोदिया (B) चौहान  
 (C) गुर्जर - प्रतिहार (D) राठौड़
90. निम्नलिखित में से क्या भारतीय अर्थव्यवस्था की कृषि और संबद्ध सेवाओं में सम्मिलित नहीं है?  
 (A) खाद्य प्रसंस्करण (B) कटाई (वृक्षों की)  
 (C) वानिकी (D) मत्स्यन
91. संत हरिदास..... सम्प्रदाय के संस्थापक थे।  
 (A) रामस्नेही (B) निरंजनी  
 (C) अलखिया (D) निम्बार्क

1313026871

1313026871

1313026871

1313026871





92. In which of the following, the archaeological remains related to Buddhism are found?  
 (A) Naliyasar (Sambhar) (B) Raidh (Tonk)  
 (C) Bairath (Virat Nagar) (D) Madhyamika (Nagari)
93. In Rajasthan the major districts of maize cultivation are -  
 (A) Banswara, Pali and Sirohi  
 (B) Baran, Kota and Jhalawar  
 (C) Chittorgarh, Banswara and Bundi  
 (D) Baran, Jalore and Pratapgarh
94. Which one of the following is the correct descending order of the coffee producing states of India?  
 (A) Karnataka > Kerala > Tamil Nadu > Andhra Pradesh  
 (B) Karnataka > Tamil Nadu > Kerala > Andhra Pradesh  
 (C) Andhra Pradesh > Tamil Nadu > Kerala > Karnataka  
 (D) Karnataka > Kerala > Andhra Pradesh > Tamil Nadu
95. **Assertion (A):** Teak trees are mostly found in southern part of Rajasthan.  
**Reason (R):** The teak can bear extreme cold and frost.  
 (A) (A) is true but (R) is false  
 (B) Both (A) and (R) are true and (R) is the correct explanation of (A)  
 (C) (A) is false but (R) is true  
 (D) Both (A) and (R) are true but (R) is not the correct explanation of (A)
96. Morley - Minto reforms were aimed at -  
 (1) Promotion of education  
 (2) Reserved seats in Provincial Assembly for Dalits  
 (3) Separate electorates for Muslims  
 (4) Increase in the number of members in Legislative Council at Centre  
 Select the correct answer from the code given below -  
 (A) 1, 2 and 3 (B) 1, 2, 3 and 4  
 (C) Only 3 (D) Only 2
92. निम्नलिखित में से, बौद्ध धर्म से सम्बन्धित पुरातात्विक अवशेष कहाँ मिले हैं?  
 (A) नलियासर (सांभर) (B) रैड (टॉक)  
 (C) बैराठ (विराट नगर) (D) माध्यमिका (नगरी)
93. राजस्थान में मक्का की खेती के प्रमुख जिले हैं -  
 (A) बांसवाड़ा, पाली और सिरौही  
 (B) बारां, कोटा और झालावाड़  
 (C) चित्तौड़गढ़, बांसवाड़ा और बूंदी  
 (D) बारां, जालौर और प्रतापगढ़
94. भारत में कॉफी उत्पादक राज्यों का निम्नलिखित में से सही घटता हुआ क्रम कौनसा है?  
 (A) कर्नाटक > केरल > तमिलनाडु > आंध्र प्रदेश  
 (B) कर्नाटक > तमिलनाडु > केरल > आंध्र प्रदेश  
 (C) आंध्र प्रदेश > तमिलनाडु > केरल > कर्नाटक  
 (D) कर्नाटक > केरल > आंध्र प्रदेश > तमिलनाडु
95. **कथन (A):** राजस्थान के दक्षिणी क्षेत्रों में सागवान के वृक्ष अधिक पाये जाते हैं।  
**कथन (R):** सागवान अधिक सर्दी व पाला सहन कर पाता है।  
 (A) (A) सही है लेकिन (R) गलत है  
 (B) (A) और (R) दोनों सही हैं एवं (R), (A) की सही व्याख्या है  
 (C) (A) गलत है लेकिन (R) सही है  
 (D) (A) और (R) दोनों सही हैं किंतु (R), (A) की सही व्याख्या नहीं है
96. मॉर्ले - मिंटो सुधारों का उद्देश्य था -  
 (1) शिक्षा को बढ़ावा  
 (2) प्रांतीय विधानसभा में दलितों के लिए आरक्षित सीटें  
 (3) मुसलमानों के लिए अलग निर्वाचक मंडल  
 (4) केन्द्रीय विधान परिषद में सदस्यों की संख्या में बढ़ोत्तरी  
 नीचे दिए गए कूट में से सही उत्तर का चयन कीजिए -  
 (A) 1, 2 एवं 3 (B) 1, 2, 3 एवं 4  
 (C) केवल 3 (D) केवल 2



97. From which district of Rajasthan, the Heli-Borne survey technique for ground water management has been launched?  
 (A) Jodhpur (B) Bharatpur  
 (C) Kota (D) Jaipur
98. Who was appointed as the new Chief Minister of Tripura in May 2022?  
 (A) Eknath Shinde (B) Biplab Kumar Deb  
 (C) Dr. Manik Saha (D) N. Biren Singh
99. Who among the following 'Padma Award - 2022' recipient is related to Rajasthan?  
 (A) Vandana Kataria (B) Shakuntala Choudhary  
 (C) Sheesh Ram (D) Chandraprakash Dwivedi
100. Where will the 'Khadi Plaza' be constructed by Rajasthan Khadi and Village Industries Board?  
 (A) Jaipur (B) Udaipur  
 (C) Jodhpur (D) Bikaner
101. Page fault occurs, when -  
 (A) the page is present in memory  
 (B) the page is not present in memory  
 (C) the buffering occurs  
 (D) the deadlock occurs
102. Consider following statements, in context of MS-Word - 2019 keys for moving around documents -  
 I : Pressing END takes you to the end of the document.  
 II : Pressing PgDn takes you down one screen.  
 III : Pressing Ctrl + Home takes you to the top of the document.  
 Which of the above statements are true?  
 (A) I and III (B) I and II  
 (C) I, II and III (D) II and III
97. भूजल प्रबंधन के लिए, हेली-बोर्न सर्वेक्षण तकनीक का प्रारंभ राजस्थान के किस जिले में किया गया है?  
 (A) जोधपुर (B) भरतपुर  
 (C) कोटा (D) जयपुर
98. मई 2022 में, त्रिपुरा के नए मुख्यमंत्री किसे नियुक्त किया गया?  
 (A) एकनाथ शिंदे (B) बिप्लब कुमार देब  
 (C) डॉ. माणिक साहा (D) एन. बीरेन सिंह
99. 'पद्म पुरस्कार - 2022' के अधोलिखित प्राप्तकर्ताओं में कौन राजस्थान से संबंधित हैं?  
 (A) वन्दना कटारिया (B) शकुन्तला चौधरी  
 (C) शीश राम (D) चन्द्रप्रकाश द्विवेदी
100. राजस्थान खादी एवं ग्रामोद्योग बोर्ड द्वारा 'खादी प्लाज़ा' का निर्माण कहाँ किया जाएगा?  
 (A) जयपुर (B) उदयपुर  
 (C) जोधपुर (D) बीकानेर
101. पेज फॉल्ट तब होता है, जब -  
 (A) पेज मेमोरी में मौजूद है  
 (B) पेज मेमोरी में मौजूद नहीं है  
 (C) बफ़रिंग होती है  
 (D) डेडलॉक होता है
102. डॉक्यूमेंट में एक स्थान से दूसरे स्थान जाने के लिए एम.एस. वर्ड - 2019 की कुंजियों के संदर्भ में निम्न कथनों पर विचार करें -  
 I : END दबाने पर आप डॉक्यूमेंट के अंत पर पहुँचा दिये जाते हैं।  
 II : PgDn दबाने पर आपको एक स्क्रीन नीचे पहुँचा दिया जाता है।  
 III : कन्ट्रोल + होम (Ctrl + Home) दबाने पर आपको डॉक्यूमेंट के शीर्ष पर पहुँचा दिया जाता है।  
 उपरोक्त में से कौन से कथन सत्य हैं?  
 (A) I तथा III (B) I तथा II  
 (C) I, II तथा III (D) II तथा III





103. Second generation computers were developed during -  
 (A) 1970 to 1990 (B) 1959 to 1965  
 (C) 1649 to 1670 (D) 1965 to 1970
104. Which of the following statement is false?  
 (A) Trackball and Joystick are pointing devices like mouse.  
 (B) A digitizer is an output device.  
 (C) OCR stands for Optical Character Recognition.  
 (D) You may find pre-printed MICR characters on bank cheques.
105. Which command will be used to display the format cells dialog box in MS-Excel?  
 (A) Ctrl + 2 (B) Ctrl + 1  
 (C) Ctrl + F (D) Ctrl + D
106. Read the following two statements -  
 I. Information and Communication Technology (ICT) is considered as a subset of Information Technology (IT).  
 II. The 'right to use' a piece of software is termed as copyright.  
 Which of the above mentioned statement(s) is/are correct?  
 (A) Neither I nor II (B) Both I and II  
 (C) II only (D) I only
107. What is formed in the reaction of sodium hydroxide with zinc?  
 (A) Zinc hydroxide and hydroxide gas  
 (B) Sodium Zincate and hydrogen gas  
 (C) Zinc hydroxide and sodium  
 (D) Sodium Zincate and water
108. Apis florea is related to which of the following?  
 (A) Silk worm (B) Termite  
 (C) Honey Bee (D) Lac insect
103. द्वितीय जनन कम्प्यूटरों को किस दौरान विकसित किया गया था?  
 (A) 1970 से 1990 (B) 1959 से 1965  
 (C) 1649 से 1670 (D) 1965 से 1970
104. निम्न में से कौन सा कथन असत्य है?  
 (A) ट्रेकबॉल तथा जॉयस्टिक, माउस की तरह पॉइन्टिंग युक्तियां हैं।  
 (B) डिजिटाइजर एक आउटपुट युक्ति है।  
 (C) ओ.सी.आर. का अभिप्राय ऑप्टिकल कैरेक्टर रिकग्निशन है।  
 (D) एक बैंक चैक पर आप पहले से छपे एम.आई.सी.आर. अक्षर पा सकते हैं।
105. MS-Excel में फॉरमैट सेल्स डायलॉग बॉक्स प्रदर्शित करने के लिये किस कमांड का उपयोग करेंगे?  
 (A) Ctrl + 2 (B) Ctrl + 1  
 (C) Ctrl + F (D) Ctrl + D
106. निम्नलिखित दो कथनों को पढ़ें -  
 I. सूचना और संचार प्रौद्योगिकी (आई.सी.टी.) को सूचना प्रौद्योगिकी (आई.टी.) का सबसेट माना जाता है।  
 II. किसी सॉफ्टवेयर के 'उपयोग के अधिकार' को कॉपीराइट कहा जाता है।  
 उपर्युक्त में से कौन सा/से कथन सही है/हैं?  
 (A) न तो I और ना ही II (B) I और II दोनों  
 (C) केवल II (D) केवल I
107. जिंक के साथ सोडियम हाइड्रॉक्साइड की अभिक्रिया से क्या बनता है?  $Zn + NaOH \rightarrow ZnO + H_2$   
 (A) जिंक हाइड्रॉक्साइड और हाइड्रॉक्साइड गैस  
 (B) सोडियम जिंकेट और हाइड्रोजन गैस  
 (C) जिंक हाइड्रॉक्साइड और सोडियम  
 (D) सोडियम जिंकेट और पानी
108. एपिस फ्लोरिया निम्नलिखित में से किससे सम्बन्धित है?  
 (A) रेशम कीट (B) दीमक  
 (C) मधुमक्खी (D) लाख कीट



$R \propto \frac{l}{A}$

$R = \frac{\rho l}{A}$   $\rho \propto \frac{1}{R}$   $\rho \propto \frac{1}{A}$

109. The resistance of a copper wire 200m long is 21Ω. If its thickness (diameter) is 0.44 mm, its specific resistance is around -  
 (A)  $1.8 \times 10^{-8} \Omega\text{-m}$  (B)  $1.4 \times 10^{-8} \Omega\text{-m}$   
 (C)  $1.2 \times 10^{-8} \Omega\text{-m}$  (D)  $1.6 \times 10^{-8} \Omega\text{-m}$
110. .... is an example of physical change.  
 (A) Making of curd from milk  
 (B) Burning of candle  
 (C) Blackening of silverware  
 (D) Dissolving of sugar in water
111. Which one of the following is a viral disease in animals?  
 (A) Johne's disease (B) Anthrax  
 (C) Blue tongue (D) Milk fever disease
112. Which of the given enzymes is responsible for the digestion of milk protein?  
 (A) Erepsin (B) Trypsin  
 (C) Pepsin (D) Rennin
113. Match List-I with List-II and select the correct answer by using the code given below -
- | List - I            | List - II         |
|---------------------|-------------------|
| (a) Hydrogen bomb   | (1) Fission       |
| (b) Atom bomb       | (2) Fusion        |
| (c) Binding energy  | (3) Critical mass |
| (d) Nuclear reactor | (4) Mass defect   |
- Code -  
 (A) (a) - (2), (b) - (1), (c) - (3), (d) - (4)  
 (B) (a) - (2), (b) - (1), (c) - (4), (d) - (3)  
 (C) (a) - (1), (b) - (2), (c) - (4), (d) - (3)  
 (D) (a) - (1), (b) - (2), (c) - (3), (d) - (4)

109. 200 मीटर लंबे तांबे के तार का प्रतिरोध 21 Ω है। यदि इसकी मोटाई (व्यास) 0.44 मि.मी. है, तो इसका विशिष्ट प्रतिरोध आसपास है -  
 (A)  $1.8 \times 10^{-8} \Omega\text{-m}$  (B)  $1.4 \times 10^{-8} \Omega\text{-m}$   
 (C)  $1.2 \times 10^{-8} \Omega\text{-m}$  (D)  $1.6 \times 10^{-8} \Omega\text{-m}$
110. .... भौतिक परिवर्तन का एक उदाहरण है।  
 (A) दूध से दही बनना  
 (B) मोमबत्ती का जलना  
 (C) चांदी के बर्तनों का काला पड़ना।  
 (D) चीनी का पानी में घुलना
111. निम्नलिखित में से कौन सा एक पशुओं में वायरल रोग है?  
 (A) जॉन रोग (B) एन्थ्रैक्स  
 (C) नीली जिहवा रोग (D) मिल्क फीवर
112. दूध प्रोटीन के पाचन के लिए दिए गए एंजाइमों में से कौन-सा जिम्मेदार है?  
 (A) एरेप्सिन (B) ट्रिप्सिन  
 (C) पेप्सिन (D) रेनिन
113. सूची-I को सूची-II से सुमेलित कीजिए और नीचे दिए गए कूट का उपयोग कर सही उत्तर चुनिए -
- | सूची - I         | सूची - II               |
|------------------|-------------------------|
| (a) हाइड्रोजन बम | (1) विखण्डन             |
| (b) परमाणु बम    | (2) संलयन               |
| (c) बंधन ऊर्जा   | (3) क्रान्तिक द्रव्यमान |
| (d) परमाणु भट्टी | (4) द्रव्यमान क्षति     |
- कूट -  
 (A) (a) - (2), (b) - (1), (c) - (3), (d) - (4)  
 (B) (a) - (2), (b) - (1), (c) - (4), (d) - (3)  
 (C) (a) - (1), (b) - (2), (c) - (4), (d) - (3)  
 (D) (a) - (1), (b) - (2), (c) - (3), (d) - (4)



114. Choose the set of true statements from the following –

- (1) Vinegar is an aqueous solution of 5% - 8% acetic acid.
- (2) Hydrolysis of fat gives glycerol and carboxylic acid.
- (3) Teflon is used as solvent.
- (4) The chemical formula of washing powder is  $\text{CaOCl}_2$ .

- (A) 3, 4 (B) 1, 4  
(C) 1, 2 (D) 2, 3

115. What is the percentage of Photosynthetically Active Radiation (PAR) that is captured by the plants?

- (A) 2-10% (B) 5-10%  
(C) 2-15% (D) 2-5%

116. If 'CEG' is written as 'TSR' and 'FHJ' is written as 'QPO', then 'IKM' is written as –

- (A) NOM (B) NOL  
(C) MLN (D) NML

117. The next term of the following number series is –

2, 12, 36, 80, 150, .... ?

- (A) 210 (B) 258  
(C) 270 (D) 252

118. Here, a statement is followed by two arguments I and II are given. You have to decide which of the argument/arguments is/are a 'strong' argument and which is a 'weak' argument.

**Statement :** Should income tax be evaded by people?

**Arguments :** I. Yes, Taxes are excessively high.  
II. No, it will hamper the welfare programmes.

- (A) if neither I nor II is strong  
(B) If only argument II is strong  
(C) If both I and II are strong  
(D) If only argument I is strong



114. निम्नलिखित में से सत्य कथनों के समूह का चुनाव कीजिए –

- (1) 5% - 8% एसिटिक अम्ल के जलीय विलयन को सिरका कहते हैं।
- (2) वसा के जल अपघटन से ग्लिसरॉल और कार्बोक्सिलिक अम्ल प्राप्त होते हैं।
- (3) टेफ्लॉन का उपयोग विलायक के रूप में किया जाता है।
- (4)  $\text{CaOCl}_2$  वॉशिंग पाउडर का रासायनिक सूत्र है।

- (A) 3, 4 (B) 1, 4  
(C) 1, 2 (D) 2, 3

115. प्रकाशसंश्लेषी रूप से सक्रिय विकिरण (पी.ए.आर.) का कितना प्रतिशत पौधों द्वारा ग्रहण किया जाता है?

- (A) 2-10% (B) 5-10%

- (C) 2-15% (D) 2-5%

यदि 'CEG' को 'TSR' एवं 'FHJ' को 'QPO' लिखा जाता है, तो 'IKM' को किस प्रकार लिखा जायेगा?

- (A) NOM (B) NOL  
(C) MLN (D) NML

117. निम्नलिखित संख्या श्रेणी का अगला पद है –  
2, 12, 36, 80, 150, .... ?

- (A) 210 (B) 258  
(C) 270 (D) 252

118. यहाँ, एक कथन के पश्चात् दो तर्क I तथा II दिये हैं। आपको निश्चित करना है कि कौनसा/कौनसे तर्क मजबूत हैं तथा कौनसा तर्क कमजोर है।

**कथन :** क्या लोगों द्वारा आयकर को टाल देना चाहिए?

**तर्क :** I. हाँ, कर अत्यधिक उच्च है।

II. नहीं, यह कल्याण कार्यक्रमों को बाधित करेगा।

(A) यदि न तो I, न ही II मजबूत है

(B) यदि केवल तर्क II मजबूत है

(C) यदि दोनों I तथा II मजबूत हैं

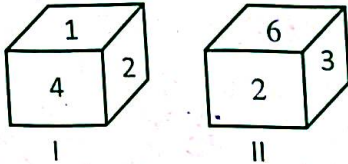
(D) यदि केवल तर्क I मजबूत है



119. If Sohan, while selling two goats at the same price, makes a profit of 10% on one goat and suffers a loss of 10% on the other, then which of the following is true?

- (A) He makes a profit of 1%
- (B) He suffers a loss of 1%
- (C) He makes no profit and no loss
- (D) He suffers a loss of 2%

120. Two different positions of a die is shown below. Which number will appear on the face opposite to 5?



- (A) 1
- (B) 6
- (C) 2
- (D) 3

121. In a certain code language, "479" means "fruit is sweet", "248" means "very sweet voice" and "637" means "eat fruit daily". Code for "is" is equal to -

- (A) 7
- (B) 4
- (C) 9
- (D) 6

122. If the income of x is 10% more than that of y and the income of y is 20% less than that of z, then the income of x, y and z respectively are in the ratio -

- (A) 22:18:25
- (B) 10:9:7
- (C) 22:20:25
- (D) 11:10:8

123. Umang said to Uma - "You are wife of my grandson of my mother". Who is Umang to Uma?

- (A) Father
- (B) Husband
- (C) Father-in-law
- (D) Grandfather

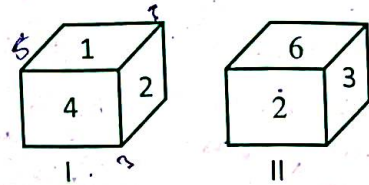
124. 'A' walks 10 m towards East and then 10 m towards his right. Then every time turning to his left he walks 5, 15 and 15 m respectively. How far is he now from his starting point?

- (A) 10m.
- (B) 15m
- (C) 5m
- (D) 20m

119. यदि सोहन, दो बकरियों को समान मूल्य पर बेचकर, एक बकरी पर 10% का लाभ कमाता है और दूसरी पर 10% की हानि भुगतता है, तो निम्न में से कौनसा सत्य है?

- (A) वह 1% का लाभ कमाता है
- (B) उसे 1% की हानि होती है
- (C) वह न तो लाभ कमाता है ना ही हानि
- (D) उसे 2% की हानि होती है

120. एक पासे की दो विभिन्न स्थितियाँ नीचे दिखाई गई हैं। 5 के विपरीत फलक पर कौन - सा अंक दिखाई देगा?



- (A) 1
- (B) 6
- (C) 2
- (D) 3

121. एक निश्चित कूट भाषा में "479" का अर्थ "fruit is sweet" है, "248" का अर्थ "very sweet voice" है और "637" का अर्थ "eat fruit daily" है। "is" का कूट बराबर है -

- (A) 7
- (B) 4
- (C) 9
- (D) 6

122. यदि x की आय, y की आय से 10% अधिक है तथा y की आय, z की आय से 20% कम है, तो x, y तथा z की आनुपातिक आय क्रमशः है -

- (A) 22:18:25
- (B) 10:9:7
- (C) 22:20:25
- (D) 11:10:8

123. उमंग ने उमा को कहा - "तुम मेरी माता के पौत्र की पत्नी हो।" उमंग का उमा से क्या संबंध है?

- (A) पिता
- (B) पति
- (C) ससुर
- (D) दादा

124. 'A' 10 मीटर पूर्व की ओर चलता है और फिर 10 मीटर अपने दायीं ओर जाता है। फिर हर बार अपनी बायीं ओर मुड़कर, वह क्रमशः 5, 15 और 15 मीटर चलता है। अब वह अपने प्रारंभिक स्थान से कितनी दूरी पर है?

- (A) 10 मी.
- (B) 15 मी.
- (C) 5 मी.
- (D) 20 मी.

131C

$x = 110$   
 $y = 100$   
 $z = 100$   
 $110 : 100 : 100$





$\frac{x+y+z}{100} = \frac{x}{100} + \frac{y}{100} + \frac{z}{100}$

125. If the simple interest for 5 years be equal to 20% of the principal amount, then it will be equal to the principal amount -


- (A) in 20 years (B) in 15 years  
(C) in 10 years (D) in 25 years

125. यदि 5 वर्ष का साधारण ब्याज, मूलधन के 20% के बराबर है, तो यह मूलधन के बराबर हो जाएगा -

- (A) 20 वर्षों में (B) 15 वर्षों में  
(C) 10 वर्षों में (D) 25 वर्षों में

126. Area of a rectangular field is 300 sq. meter. If length of its diagonal is 25 meter, then the perimeter of this field is -

- (A) 84 meter (B) 90 meter  
(C) 70 meter (D) 80 meter




126. एक आयताकार मैदान का क्षेत्रफल 300 वर्ग मीटर है यदि विकर्ण की माप 25 मीटर हो, तो मैदान का परिमाण है -

- (A) 84 मीटर (B) 90 मीटर  
(C) 70 मीटर (D) 80 मीटर

127. Average of all even numbers between 320 and 350 is -

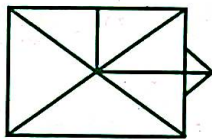
- (A) 335 (B) 325  
(C) 332 (D) 330



127. 320 तथा 350 के मध्य की सभी सम संख्याओं का औसत है -

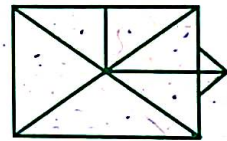
- (A) 335 (B) 325  
(C) 332 (D) 330

128. How many triangles are there in the given figure?



- (A) 16 (B) 17  
(C) 15 (D) 14

128. दी गई आकृति में कितने त्रिभुज हैं?



- (A) 16 (B) 17  
(C) 15 (D) 14

129. If (+) means (x), (÷) means (+), (x) means (-)

and (-) means (÷), then the value of  $124 \div 32 - 8 + 2 \times 11$  is equal to -

- (A) 120 (B) 132  
(C) 121 (D) 144

129. यदि (+) का अर्थ (x), (÷) का अर्थ (+), (x) का अर्थ

(-) और (-) का अर्थ (÷) है, तो  $124 \div 32 - 8 + 2 \times 11$  का मान बराबर है -

- (A) 120 (B) 132  
(C) 121 (D) 144

130. A, B, C, D, E and F are sitting in a row. E and F are in the centre, A and B are at the ends, C is sitting on the left of A. Who is sitting on the right of B?

- (A) A (B) F  
(C) E (D) D
- B    E    F    C A

130. A, B, C, D, E और F एक पंक्ति में बैठे हुये हैं। E और F केन्द्र (मध्य) में बैठे हैं, A और B छोरों पर बैठे हैं, C, A के बायीं ओर बैठा है। B के दायीं ओर कौन बैठा हुआ है?

- (A) A (B) F  
(C) E (D) D



131. सार्वनामिक विशेषण का प्रयोग किस विकल्प में हुआ है?

(A) साठ लोग समारोह में आ रहे हैं।

(B) किताब के कुछ पृष्ठ शेष हैं।

(C) वह घर अभी बना है।

(D) थोड़ा घी लेकर आइए।

132. समास - विग्रह की दृष्टि से असंगत विकल्प चुनिए -

(A) भोजनार्थ - भोजन के लिए

(B) जीवनभर - पूरे जीवन

(C) लाजवाब - ज़वाब के साथ

(D) देशाटन - देश में अटन

133. निम्न में से किस वाक्य में सजातीय क्रिया का प्रयोग हुआ है?

(A) टहलना स्वास्थ्य के लिए अच्छा है।

(B) सूखे पत्ते हवा में उड़ रहे हैं।

(C) पुलिस ने चोर को बड़ी मार मारी।

(D) मातृभूमि के लिए मरना श्रेष्ठ है।

134. किस विकल्प के शब्द दो से अधिक उपसर्गों से निर्मित है?

(A) प्राचार्य, सहानुभूति

(B) अध्यापक, पारितोषिक

(C) दुरध्यवसाय, समुदाहरण

(D) प्रतिवाद, अज्ञानता

135. 'अल्पविराम' चिन्ह के प्रयोग के संबंध में कौन-सा कथन असंगत है?

(A) किसी तथ्य को स्पष्ट करने का संकेत करने के लिए।

(B) अभिवादन, समापन, पता, दिनांक आदि में सम्मान सूचक अभिवादन के बाद में।

(C) उपवाक्यों को अलग करने के लिए।

(D) भावातिरेक में शब्दों पर बल देने के लिए।

136. किस विकल्प के सभी शब्द 'अर्जुन' के पर्यायवाची हैं?

(A) धनंजय, पार्थ, कौन्तेय

(B) अर्णव, उदधि, नदीश

(C) रजनी, यामिनी, निशि

(D) माधव, केशव, पीताम्बर

137. किस विकल्प में उचित विलोम युग्म का प्रयोग हुआ है?

(A) अनिवार्य - आवश्यक

(B) जटिल - कुटिल

(C) संधि - समास

(D) कर्कश - मधुर

138. संधि की दृष्टि से संगत विकल्प का चयन कीजिए -

(A) गुरु + उपदेश = गुरुपदेश

(B) अधः + पतन = अधःपतन

(C) स्त्री + उचित = स्त्रीयोचित

(D) विधे + इका = विधायिका

139. सुमेलित कीजिए -

(i) मूल स्वर (क) ख, छ, फ, स

(ii) दीर्घ स्वर (ख) आ, ई, ऊ, ऐ

(iii) अल्पप्राण व्यंजन (ग) अ, इ, उ, ऋ

(iv) अघोष व्यंजन (घ) य, र, ल, व

(A) (i)-(क), (ii)-(ख), (iii)-(घ), (iv)-(ग)

(B) (i)-(क), (ii)-(ख), (iii)-(ग), (iv)-(घ)

(C) (i)-(ग), (ii)-(ख), (iii)-(घ), (iv)-(क)

(D) (i)-(ख), (ii)-(ग), (iii)-(घ), (iv)-(क)

140. अशुद्ध वाक्य का चयन कीजिए -

(A) यह कार्य कैसे संभव है?

(B) कृष्ण ने कंस का वध किया।

(C) थोड़े समय बाद छात्र वापस लौट आए।

(D) देश शहीदों का सदा आभारी रहेगा।



**Direction (141 to 143) :** Read the passage carefully and answer the following questions –

But before I could be inspired by these amazing people, I had to cleanse my feed. I know my weaknesses: just last week, Facebook memories reminded me of a pizza party I'd had two years ago and I ended up ordering a chicken dominator, with garlic breadsticks and an jalapeno cheese dip. So much for Day One of Couch to 5K training. I stayed right on that couch. So far I've unfollowed BuzzFeed Tasty, TasteMade (even their adorable Tiny Kitchen) and several people who have the enviable advantage of being able to eat as much as they want and not put on weight. By my calculations, dark chocolate is healthy. So I'm still following Earth Loaf. Pascati and Mason & Co. When I finally found a gym I liked with the best trainers I have had, I unabashedly shared my workouts every day. From shying away from full-length pictures, I reached a point where I could share videos of myself deadlifting and doing back squats with a barbell across my shoulders. It gave me accountability.

141. Which of the following word in the passage means 'very desirable'?

- (A) adorable (B) enviable  
(C) cleanse (D) inspired

142. Which of the following is a page related to chocolate?

- (A) Earth Loaf (B) TasteMade  
(C) BuzzFeed Tasty (D) Tiny Kitchen

143. The word with the meaning opposite to 'shamefully' in the passage is -

- (A) enviable (B) weaknesses  
(C) unabashedly (D) shying

144. Match the sentences in the Column (A) with appropriate prepositions in Column (B) –

Column (A)

(Sentences)

- (a) The train met ..... an accident.  
(b) Such an idea would never occur ..... me.  
(c) He has been in this office ..... a year.  
(d) Wise people do not believe ..... superstitions.

Column (B)

(Prepositions)

(i) for

(ii) in

(iii) with

(iv) to

- (A) (a) – (iii), (b) – (iv), (c) – (i), (d) – (ii) (B) (a) – (iv), (b) – (i), (c) – (iii), (d) – (ii)  
(C) (a) – (ii), (b) – (iii), (c) – (iv), (d) – (i) (D) (a) – (i), (b) – (ii), (c) – (iii), (d) – (iv)



145. Fill in the blank space with the correct phrasal verb from the given options –

The meeting was ..... because of bad weather.

- (A) called off (B) call back  
(C) called in (D) called back

146. What is 'Pseudonym' in letter writing?

- (A) Fictitious name (B) Name of the Editor  
(C) Legal name (D) Real name

147. Choose the correct English translation of the given sentence –

मैं अपने कमरे में प्रवेश करने से पहले अपने जूते और मोजे उतार देता हूँ।

- (A) I take out my shoes and socks at the time of entering my room.  
(B) I take off my shoes and socks while entering my room.  
(C) I take out my shoes and socks before I enter my room.  
(D) I take off my shoes and socks before entering my room.

148. Fill in the blank space with the correct determiner –

..... friends he has are sincere.

- (A) The little (B) Much  
(C) None (D) The few

149. Choose the most appropriate option –

Ashin said, "Shall I ever win a gold medal?" (Change into Indirect Speech)

- (A) Ashin exclaimed if he shall ever win a gold medal.  
(B) Ashin said that shall he ever won a gold medal.  
(C) Ashin asked if he shall ever have won a gold medal.  
(D) Ashin wondered if he would ever win a gold medal.

150. Choose the alternative which best expresses the meaning of the underlined idiom/ phrase –

The winning team decided to go for the jugular in the last quarter of the match.

- (A) give reserve players a chance (B) forfeit the match  
(C) attack all out (D) give easy opportunities to the opposite team